

## Model Question Paper

### Periodic Test- II

শ্রেণি (Class) : পঞ্চম (V)  
বিষয় (Subject) : পরিবেশ বিদ্যা (EVS)

সময় (Time):  $1\frac{1}{2}$  Hours




মোট নম্বর (Full Marks) : 40

#### Group-A (Mark-15)

1. নিম্নে দেয়া শরীরের বিভিন্ন অঙ্গগুলোর সঠিক জোড় মেলাও (Match the name of the following body parts with the correct actions) :  $1 \times 3 = 3$

শরীরের অঙ্গসমূহ	কাজ
Body Parts	Action
a) জিহ্বা Tongue	i) সুগন্ধির গন্ধ নেয়া Smelling perfume
b) কান Ears	ii) খাদ্যের স্বাদ Tasting of Food
c) নাক Nose	iii) গান শুনা Listening Music

2. সব্জিগুলোর নাম লেখো : (Name the Vegetables) :  $2 \times 3 = 6$

- a)  \_\_\_\_\_
- b)  \_\_\_\_\_
- c)  \_\_\_\_\_

3. যত্নসহকারে রচনাংশটি পড়ো এবং শূণ্যস্থান পূরণ করো (Read the passage carefully and fill up the blanks):  $2 \times 3 = 6$

আমার নাম রাম। আমি আম ও কলা খেতে ভালবাসি এবং দিনে প্রচুর জল পান করি এবং প্রতিদিন স্কুলে যেতে ভালবাসি।

My name is Ram .I love to eat Mango and Banana, and drinks lots of water in day and loves to goes to school every day.

- a) রাম খেতে ভালবাসে \_\_\_\_\_ এবং \_\_\_\_\_  
Ram loves to eat \_\_\_\_\_ and \_\_\_\_\_
- b) রাম দিনের বেলা প্রচুর \_\_\_\_\_ পান করে এবং প্রতিদিন \_\_\_\_\_ যায়।  
Ram drinks lots of \_\_\_\_\_ in a day and goes to \_\_\_\_\_ everyday.

### Group-B (Mark-10)

4. (Read the passage carefully and answer the following questions) :

1 × 3 = 3

আমি জশমা, আমি গুজরাটের কচ্ছ এলাকায় বাস করি। আমার বয়স যখন এগার তখন সেখানে ভূমিকম্প হয়েছিল।  
I am Jasma. I live in the Kutch area Gujrat. I was eleven years old when there was an earthquake.

- a) যে রাজ্যে ভূমিকম্প হয়েছিল তার নাম লেখো? (গুজরাট / মহারাষ্ট্র)

Name the state where earthquake came? (Gujrat / Maharastra)

- b) যখন ভূমিকম্প হয়েছিল তখন জশমার বয়স কতো? (১২ বৎসর / ১১ বৎসর)

How old the Jasma was when the earthquake came? (12 years/11 years)

- c) জশমা কোথায় বসবাস করে? (উত্তর পূর্বাঞ্চলে / কচ্ছ এলাকায়)

Where does Jasma live in? (North East area/Kutch area)

5. নিম্নলিখিত প্রশ্নগুলোর উত্তর দাও (Answer the following questions) :

2 × 2 = 4

- a) পেট্রোল জ্বালানির সাহায্যে চলে এমন দুই চাকার যানের নাম করো।

Name two- wheeler vehicles that runs through petrol fuel.

- b) ভারতের দুটি শীতলতম স্থানের নাম করো।


Name two coldest places of India.

6. নিম্নলিখিত ছবিগুলো দেখে পরিবহনের ধরন লিখো (Choose the correct mode of transportation of the following pictures) :

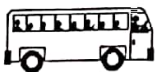
3 × 1 = 3

- a)  \_\_\_\_\_ (জল / রাস্তা)

(Water/Road).

- b)  \_\_\_\_\_ (জল / বায়ু)

(Water/Air)

- c)  \_\_\_\_\_ (রাস্তা / বায়ু)

(Road/Air)

### Group-C (Mark-15)

7. স্তম্ভ মেলানো (Match the column) :

3 × 1 = 3

#### Column : A

- i) ডাক্তার

DOCTOR

- ii) সেনাবাহিনী

ARMY JAWANS

- iii) কৃষক

FARMER

#### Column: B

- a) আটকে পড়া লোকদের উদ্ধার করে।

Move out people who were trapped

- b) কৃষিতে নিযুক্ত ব্যক্তি

Persons engaged in Agriculture

- c) আহত লোকদের পরিচর্যা করে।

Treat injured persons

8. নিম্নলিখিত প্রশ্নগুলোর উত্তর দাও (Answer the following questions):

2 × 2 = 4

- a) শীতকালে টসী এবং তার পরিবারের লোকজন নীচতলায় বসবাস করতো। কেন তাঁরা এমন করতো? (অধ্যায়: Ashelter so High)

During winters, Tashi and his family live in the ground floor. Why did they be do so? (Chapter ref: Ashelter so High)

- b) কেন আশেপাশের লোকেরা একত্রে বসবাস করতো? (অধ্যায়: When the Earth Shook!)

Why do people live together in a neighborhood? (Chapter ref: When the Earth Shook!)

9. নিম্নলিখিত প্রশ্নগুলোর উত্তর দাও (Answer the following questions):

3 × 1 = 3

- a) কোন্ রাজ্যে ডিগবয় তৈলক্ষেত্র অবস্থিত? (আসাম / ত্রিপুরা)

In which state Digboi oil field is present? (Assam/Tripura)

- b) বায়ু প্রবাহ ফুঁ দিয়ে চালানো হয় না এমন যন্ত্রটি চিহ্নিত করো। (বাঁশি / গীটার)

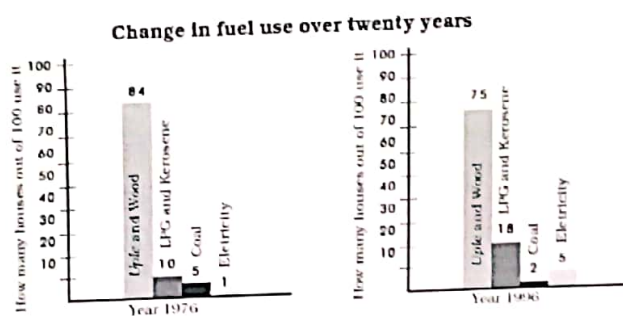
Identify the instrument which is not played by blowing air in it? (flute/guitar).

- c) কোথায় শীতল মরুভূমি রয়েছে? (লাডাক / নাগাল্যান্ড)

Which place has cold desert? (Ladakh/ Nagaland)

10. নীচের ছবি দেখে প্রশ্নগুলোর উত্তর দাও (Answer the following questions from the picture below): 5 × 1 = 5

২০ বৎসর সমকালে জ্বালানি ব্যবহারে পরিবর্তন



- (i) 1976 সালে 100 জন লোকের মধ্যে কত লোক \_\_\_\_\_ এবং কাঠ ব্যবহার করত?

In year 1976, out of 100 people how many houses used uple and wood?

- (ii) 1976 সালে এল.পি.জি এবং কেরোসিন ব্যবহৃত হত \_\_\_\_\_ বাড়িতে।

In 1976, LPG and kerosene were used in \_\_\_\_\_ houses.

- (iii) 1996, সালে 100 টি বাড়ির মধ্যে কতটিতে বিদ্যুৎ ব্যবহৃত হতো?

Out of 100, how many houses were using electricity in 1996?

- (iv) 1996, সালে কোন জ্বালানিটি সবচেয়ে কম ব্যবহৃত হত?

Which fuel was used the least in 1996?

- (v) 1976 সালে কত সংখ্যক বাড়িতে বিদ্যুৎ ব্যবহৃত হত?

In 1976, how many houses used electricity?